

# Maths Période 3

plus que / moins que / autant

1

Tous les chiens ont-ils une niche ?



oui



non



# Maths Période 3

plus que / moins que / autant

1

Chaque fleur a-t-elle un pot ?



oui



non



# Maths Période 3

plus que / moins que / autant

1

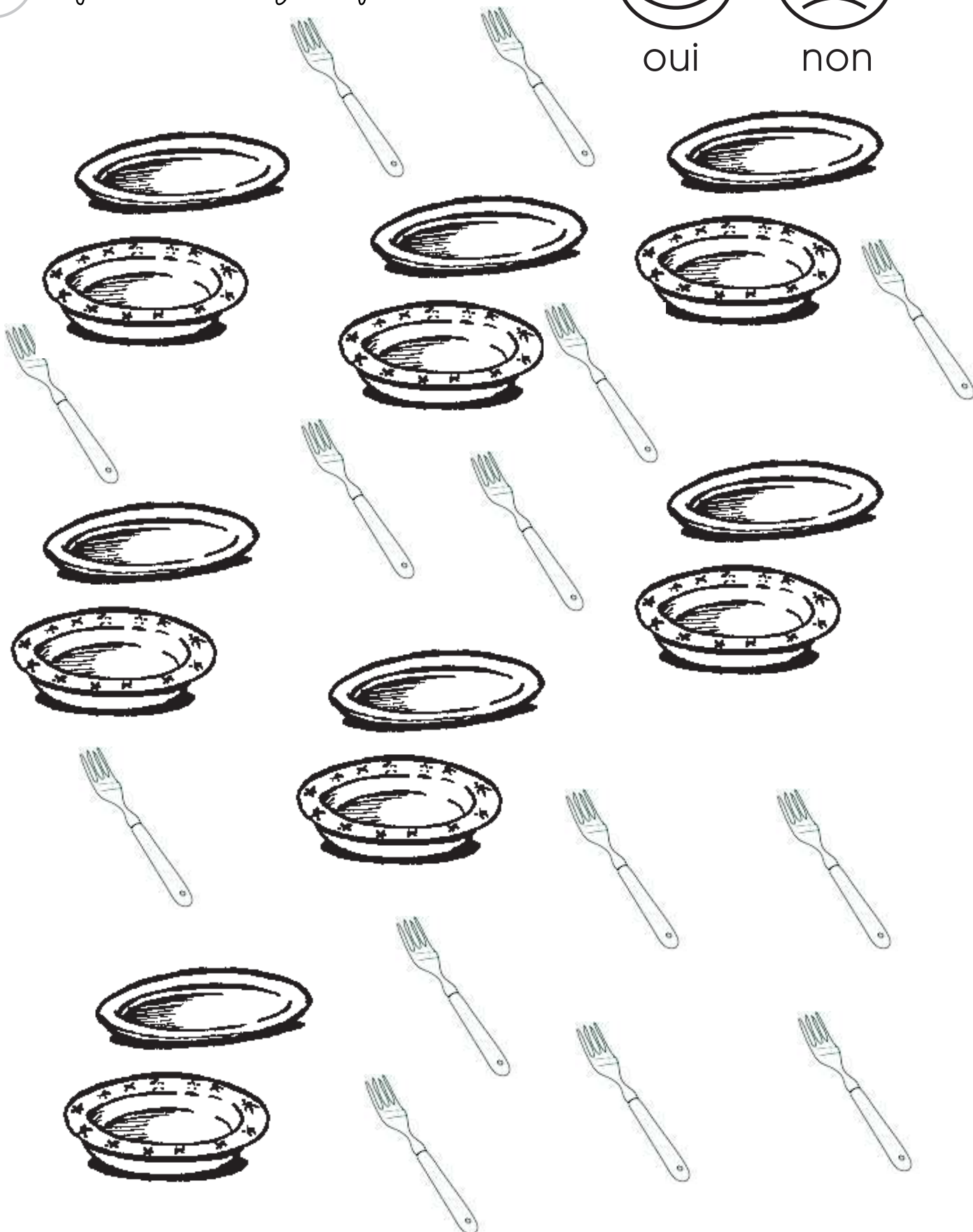
Y-a-t-il assez de fourchettes?



oui



non



# Maths Période 3

plus que / moins que / autant

8

1 Colorie le plus grand des trois.



|   |   |   |   |   |   |   |   |   |
|---|---|---|---|---|---|---|---|---|
| 5 | 3 | 6 | 7 | 9 | 6 | 1 | 3 | 5 |
|---|---|---|---|---|---|---|---|---|

2 Dessine une carte pour gagner.



|  |  |  |  |  |  |
|--|--|--|--|--|--|
|  |  |  |  |  |  |
|--|--|--|--|--|--|

3 Ecris un chiffre pour gagner.



|  |                      |  |                      |  |                      |
|--|----------------------|--|----------------------|--|----------------------|
|  | <input type="text"/> |  | <input type="text"/> |  | <input type="text"/> |
|--|----------------------|--|----------------------|--|----------------------|

4 Je m'entraîne à écrire.

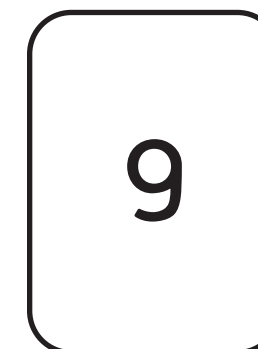












6

# Maths Période 3

plus que / moins que / autant

1 Colorie la carte gagnante. Si il y a bataille, colorie les deux.



2 Je m'entraîne à écrire.

6

9