



# Les nombres de 0 à 99

## • Complète.

68	69		71			74		76			79	
----	----	--	----	--	--	----	--	----	--	--	----	--

73						79		81			84	
----	--	--	--	--	--	----	--	----	--	--	----	--

78						84		86			89	
----	--	--	--	--	--	----	--	----	--	--	----	--

82						88			91		93	
----	--	--	--	--	--	----	--	--	----	--	----	--

## • Place le signe > ou <.

98 \_\_\_ 88

72 \_\_\_ 62

87 \_\_\_ 97

65 \_\_\_ 75

86 \_\_\_ 96

79 \_\_\_ 69

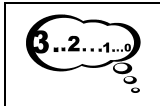
92 \_\_\_ 82

73 \_\_\_ 83

74 \_\_\_ 64

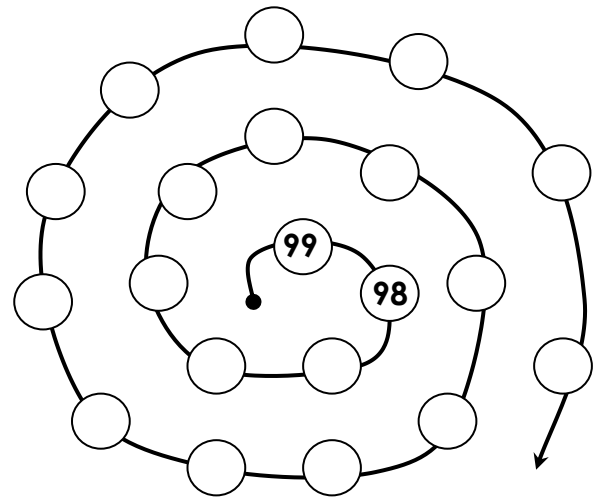
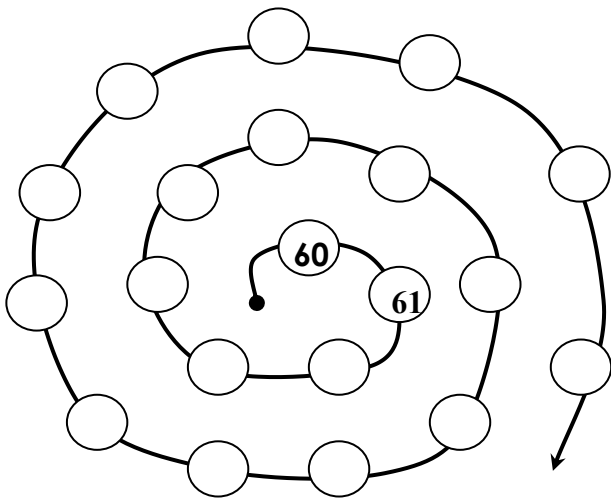
## • Relie.

quatre-vingt-huit	•	•	89
quatre-vingt-dix-neuf	•	•	86
quatre-vingt-cinq	•	•	88
quatre-vingt-neuf	•	•	99
quatre-vingt-dix-huit	•	•	95
quatre-vingt-quinze	•	•	98
quatre-vingt-six	•	•	81
quatre-vingt-un	•	•	91
quatre-vingt-seize	•	•	96
quatre-vingt-onze	•	•	85



# Les nombres de 0 à 99

- Complète chaque spirale des nombres.



- Ecris les nombres en chiffres.


trente	
cinquante	
vingt-sept	
quarante-huit	
soixante-six	
soixante-douze	

quatre-vingt	
quatre-vingt-neuf	
cinquante-sept	
soixante-dix-neuf	
quatre-vingt dix-sept	
trente-cinq	

- Range du plus petit au plus grand.

68 – 86 – 56 – 65 – 76 – 67 – 46 – 64 – 97 – 79

\_\_\_\_\_ - \_\_\_\_\_ - \_\_\_\_\_ - \_\_\_\_\_ - \_\_\_\_\_ - \_\_\_\_\_ - \_\_\_\_\_ - \_\_\_\_\_ - \_\_\_\_\_ - \_\_\_\_\_



# Les nombres de 0 à 99

- Range les nombres du plus petit au plus grand.

68 – 75 – 78 – 65 – 98 – 86 – 89 – 56

□ < □ < □ < □ < □ < □ < □ < □

- Complète le tableau.

Avant	nombre	Après
	75	
	63	
	86	
	91	
	79	
	69	
	65	

- Place le signe > ou <.

62 \_\_\_\_ 26

94 \_\_\_\_ 46

18 \_\_\_\_ 81

73 \_\_\_\_ 37

56 \_\_\_\_ 65

63 \_\_\_\_ 36

82 \_\_\_\_ 28

19 \_\_\_\_ 91

79 \_\_\_\_ 97

- Décompose.

Exemple : **57 = 50 + 7**

$97 = \underline{\quad} + \underline{\quad}$

$96 = \underline{\quad} + \underline{\quad}$

$78 = \underline{\quad} + \underline{\quad}$

$89 = \underline{\quad} + \underline{\quad}$

$76 = \underline{\quad} + \underline{\quad}$

$64 = \underline{\quad} + \underline{\quad}$

- Calcule.

$10 + 10 + 2 = \underline{\quad}$

$10 + 10 + 10 + 10 + 10 + 8 = \underline{\quad}$

$10 + 10 + 10 + 7 = \underline{\quad}$

$10 + 10 + 10 + 10 + 8 = \underline{\quad}$