

Associer l'horloge et le cadran (heures fixes)

Associe l'horloge et le cadran numérique qui correspond



Associer l'horloge et le cadran (demi-heures)

Associe l'horloge et le cadran numérique qui correspond



Lire les heures et les demi-heures (MATIN)**Ecris l'heure qui correspond à chaque horloge. (Nous sommes le matin)**

Il est ____ H ____



Il est ____ H ____



Il est ____ H ____



Il est ____ H ____



Il est ____ H ____



Il est ____ H ____



Il est ____ H ____



Il est ____ H ____



Il est ____ H ____



Il est ____ H ____



Il est ____ H ____



Il est ____ H ____



Il est ____ H ____



Il est ____ H ____



Il est ____ H ____



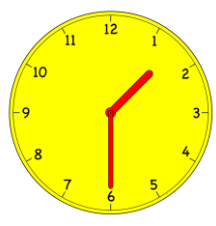
Il est ____ H ____

Lire les heures et les demi-heures (APRES-MIDI)

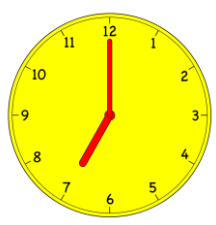
Ecris l'heure qui correspond à chaque horloge. (Nous sommes l'après-midi ou le soir)



Il est ____ H ____



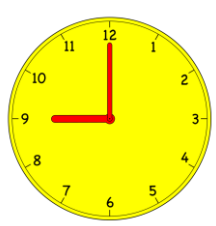
Il est ____ H ____



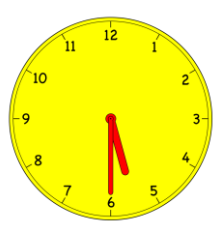
Il est ____ H ____



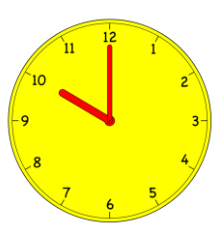
Il est ____ H ____



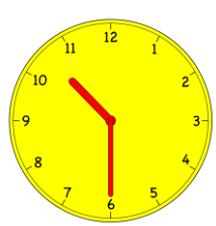
Il est ____ H ____



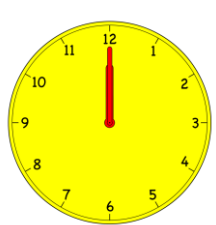
Il est ____ H ____



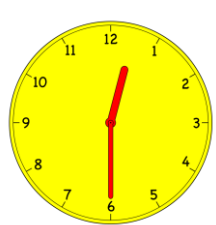
Il est ____ H ____



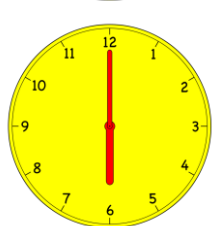
Il est ____ H ____



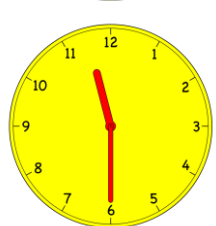
Il est ____ H ____



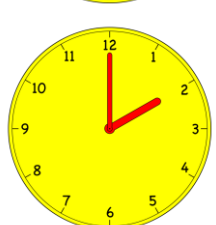
Il est ____ H ____



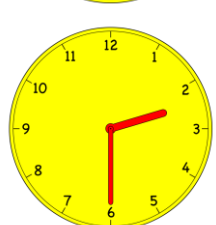
Il est ____ H ____



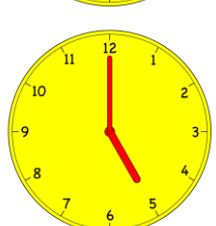
Il est ____ H ____



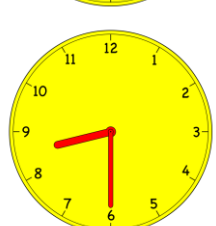
Il est ____ H ____



Il est ____ H ____



Il est ____ H ____



Il est ____ H ____